

ANSWER KEY FOR THE EXAM

OPPGÅVE 1: DIGITALTLOGISKNIVÅ (25% (10% PÅ A OG B; 5% PÅ C))

- a. I figur 1 er EPROM og RAM kopla til ein felles buss. Finn adresseområde for EPROM og RAM og teikn minnekart. Alle einingane har aktivt lågt (logisk "0") CS (Chip Select) signal.

Answer: EPROM2: hex(0000) - hex(3FFF)

EPROM1: hex(4000) - hex(7FFF)

RAM1: hex(8000) - hex (BFFF)

RAM2: hex(C000) - hex (FFFF)

Minnekart, sjå figur 11.

- b. I eit forsøk på optimalisering endrast systemet til å nytte dobbel så store minnebrikker (EPROM og RAM). Det nye systemet er vist i figure 2. Teikn minnekart for det nye systemet.

Answer: Uendra minnekart, men minne er delt på to brikkar i staden for fire, sjå figur 13.

- c. Har optimaliserings forsøke nokon innverknad på utføring av program som opphavleg var skrevet (og compilert) for systemet vist i figur 1? Grunngi svaret.

Answer: Ingen endring. Alle minneadresser i koden er fortsatt gyldige.

OPPGÅVE 2: MIKROARKITEKTUR OG MIKROINSTRUKSJONAR (30% (5% PÅ A OG B; 10% PÅ C OG D))

Bruk vedlagte diagram og tabellar for IJVM til å løyse oppgåvene.

- a. Register "PC" har verdien hex(F0F0F0000) og MPC-registeret verdien hex(08). Kva brukast desse registera til? Kva angir verdiane?

Answer: PC (Program Counter) inneheld minne adressa til instruksjon som skal utførast, peikar på instruksjon (opcode) som ligg på den minnelokasjon som innhaldet peikar på. MPC Micro Program Counter inneheld ein opcode som brukast som peikar (adr) til microinstruksjon i control store.

- b. Kva er minimum mengd mikroinstruksjonar ein må bruke for å kopiere verdien i H-registeret til alle desse registera: OPC, TOS, CPP, LV, SP, PC, MBR og MAR? Grunngi svaret.

Answer: Ein mikroinstruksjon. Det er mogleg å setje alle bita i C-felte i mikroinst. til "1" (H-bit er egentlig DC, om H-bit er 1 eller 0 spelar ingen logisk rolle, resultatet er det same). Alle register kan utføre "LOAD" frå C-bussen i paralell.

- c. Lag mikroinstruksjon(ar) for følgjande IJVM-operasjon:
MAR = MDR + PC.

Sjå vekk frå Addr- og J-felte i mikroinstruksjonsformatet. Angi korrekte bit for ALU, C, Mem og B gitt i Figur 7.

Answer: 1: Laste MDR inn i H
ALU: 010100 (B) C: 100000000 (H) Mem: 000 (ingen mem opprasjon) B: 0000 (0 MDR)

2 addere H + PC skriv til MAR.

ALU: 111100 (A+B) C: 000000001 (MAR) Mem: 000 (ingen mem opprasjon) B: 0001 (1 PC)

eller 1: PC -> H

2: MDR + H

- d. 1 Lag mikroinstruksjon(ar) som kan teste om innehalde i $OPC \geq MDR$.
2 Kva signal i mikroarkitekturen angir resultatet av testen?

Sjå vekk frå Addr- og J-felta i mikroinstruksjonsformatet. Angi korrekte bit for ALU, C, Mem og B gitt i Figur 7.

Answer: Her er det fleire løysingar, men alle krever at ein skjønner IJVM godt (eller er flink og klarar å utnytte vedlegg). Huks at det er lov å oppgi forutsetjingar. Løysingane vist er ikkje dei einaste moglege, men eksempel på korleis det kan gjerast.

Løysing X:

Sidan ein skal sjå vekk frå J feltet er enklaste løysing å forutsetje positive tal. Løysinga vert då:

1)

Laste MDR inn i H

ALU: 010100 (B) C: 100000000 (H) Mem: 000 (ingen mem opprasjon) B: 0000 (0 MDR)

OPC - H

ALU: 111111 (B - A) C: 000000000 (Ingen) Mem: 000 (ingen mem opprasjon) B: 1000 (8 OPC)

2)

N-flagg aktivt viss OPC - MDR er negativt, $OPC \geq MDR$.

Kan også løyse det ved å bytte om OPC og MDR for å få N-flagge til å gi motsatt indikasjon ($N = 1$ ved $MDR \geq OPC$). Begge vert rekna som korrekt viss ein angir korleis ein tolkar resultatet.

Løysing Y:

Her er ei anna mogleg løysing, meir komplisert, kan også handtere negative verdiar. Her utnyttar eg at ALU brukar toerskomplement for trekke frå (kan vite det sidan sub i funksjonstabellen består av: B inngang og (INVA og INC A), dette betyr også at negative tal er lagra på toerskomplimentsform. Merk at det er mange måtar å få dette til på, dette er eit eksempel på ei mogleg løysing.

1)

Fyrst utnyttar eg at MSD i IJVM er eit fortegnbit, seier ikkje noko om storleiken. Eg brukar dette bite som eit vanleg bit. endrar då talområde frå stort minus tal til stort plusstal til hex(00000000) - hex(FFFFFFFF) (0 til større plusstal).

Kan då flytte alle tal opp i det konstruerte "positive" talområde for testen ved å addere (7FFFFFFF) med variablane i OPC og MDR.

Kan då bruke samme avslutning som i løysing x.

Leggje hex(7FFFFFFF) i H-reg

Kan då gjere følgjande: Fyrst 0 i H

Microinst 1:

ALU: 010000 (0) C: 100000000 (H) Mem: 000 (ingen mem opprasjon) B: 1111 ()

Microinst 2:

hex(0) i H, ALU: invers A, shift 1 bit right, SLR1 =1 gir H = hex(7FFFFFFF)

ALU: 101100 (A) C: 100000000 (H) Mem: 000 (ingen mem opprasjon) B: 1111 () (SLR1: 1, SLL8: 0)

Dette kan gjerast på andremåtar også.

Microinst 3:

OPC = OPC + H, justerar verdien i OPC

ALU: 111100 (A+B) C: 010000000 (OPC) Mem: 000 (ingen mem opprasjon) B: 1000 (8 OPC)

Microinst 4:

H = MDR + H, H = MDR + hex(7FFFFFFF), justerar verdien i MDR for test, innhald MDR uendra.

ALU: 111100 (A + B) C: 100000000 (H) Mem: 000 (ingen mem opprasjon) B: 0000 (0 MDR)

Microinst 5:

OPC - H

ALU: 111111 (B - A) C: 000000000 (Ingen) Mem: 000 (ingen mem opprasjon) B: 1000 (8 OPC)

Kan utvidast med å gjenopprette verdien i OPC, må då ta vare på resultatet frå microinst 5 før gjenoppsetting av OPC slik at forteikne på resultatet kan testast i siste mikroinstruksjon (N gyldig for testen i siste mikroinstruksjon).

OPPGÅVE 3: ISA-NIVÅ OG AUKE YTING (30% (10% PÅ A OG C; 5% PÅ B OG D)))

I ein tenkt arkitektur har ein definert eit format for instruksjonar som vist i figur 3. Det er definert at det eksisterar 16 brukarregister. Feltet register (figur 3 b) angir kva brukarregister som nyttast.

- a. Kva type adressering kan ein utifrå figuren anta at nyttast? Forklar korleis kvart modi nyttast.

Answer: Kan svare:

Direkte adressering. Dette kan seiast heilt sikkert sidan det er einaste plassen det er definert noko adressefelt. Gir full utteljing Ein eller anna form for Register adressering (register indirect, indexed, etc). Dette kan være mulig, men ikkje gitt at det er brukt. Ikkje trekk for å nemne dette.

Som er heilt rett. Men med lite trekk godtek eg også instruksjonsformat, dette er ikkje adressering men oppbygging (definisjon) av instruksjonar:

0-adresse instruksjonar
1-adress instruksjonar
register register instruksjonar
Men dei må forklarast rett.

- b. Kva er det maksimale adresserommet for denne arkitekturen? Grunngi svaret.

Answer: 2^{16} . Det 16 bit store "address" felte er einaste informasjonen me har som angir noko om adressering.

- c. Kan ein seie noko om ordbredda (mengd bit maskina opererar på)? Grunngi svaret.

Answer: Nei. Det er ingen ting i informasjonen som seier noko om ordbredda. Mengd bit i register er ikkje oppgitt.

- d. I ein versjon av maskina er det ikkje samleband (pipeline) i instruksjonsutføringa (datapath). Tidbruken for å køyre ein instruksjon for denne maskina er vist i figur 4(a). For å auke ytinga ønskjer ein å innføre samleband. Det vert laga ein versjon med eit samleband med tre steg. Samlebandet er vist i figur 4(b).

Bruk figur 4(a) og 4(b) til å angi korleis innføring av samlebandet påverkar klokkefrekvens og ILP (Instruction Level Parallelism).

Answer: Klokka kan setjast til tregaste trinn, og tre instruksjonar i paralell.

OPPGÅVE 4: DIVERSE (15%)

Finn rett svaralternativ for oppgåvene. Korrekte svar gir 3% utteljing, feil svar gir -0.5% og veit ikkje (ikkje svar/fleire svar) gir inga utteljing.

a. Er det mogleg å kopiere innehalde i MAR til PC? Sjå figur 6.

- 1) Ja.
- 2) Nei.

Answer: 2

b. Kva påstand er **ikkje** korrekt for ein ein-brikke multiprosessor (CMP)

- 1) Kan ha felles hovudminne.
- 2) Kan dele cache.
- 3) Er av type homogen eller heterogen.
- 4) Kan berre nytte ILP som parallelliserings strategi.

Answer: 4 (Kan nytte prosessor level Parallelism og så)

c. Figur 5(a) har ein funksjon som gitt i sanningstabellen i figur5(b).

- 1) Korrekt.
- 2) Ikkje korrekt.

Answer: 1

Jadå det er ein fulladder.

d. Ved å auke mengda samlebandstrinn aukar ILP.

1) Korrekt.

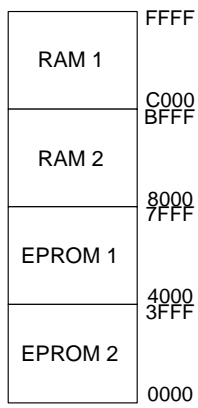
2) Ikkje korrekt.

Answer: 1

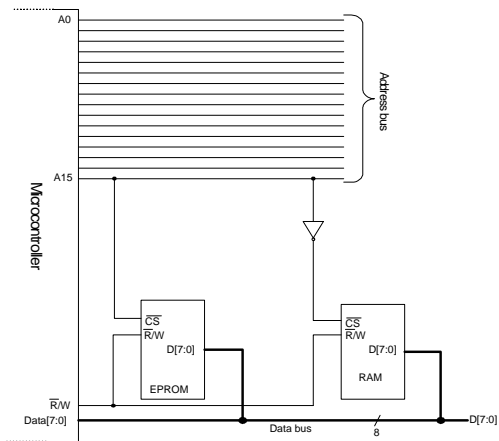
e. Under følger ein rekke påstandar om datamaskinkomponentar. Kva påstand er korrekt?

- 1) Multipleksa adresse/data buss halverar adresserommet samanlikna med system med dedikerte adresse- og databusar.
- 2) Ein prosessor som har ein ALU som kan utføre NAND-operasjon, kan programmerast til å utføre alle logiske operasjonar.
- 3) PROM og flash-minne kan slettast og programmerast fleire gonger.
- 4) Ein dekodarkrets har fleire inngangar enn utgangar.

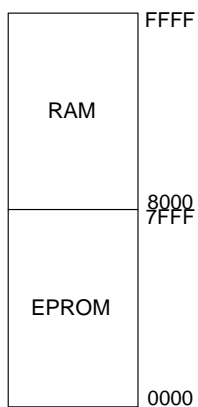
Answer: korrekt? 2



Figur 11: Minnekart.



Figur 12: Adressedekoding.



Figur 13: Minnekart.